

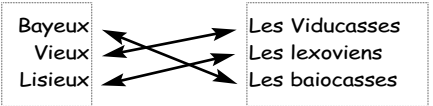


Parcours-enquête niveau 3 CORRECTIONS

Salle n°1 Vieux, une cité gallo-romaine page 2

- 1 Comment s'appelait Vieux à l'époque romaine ? **AREGENUA**
- 2 A quels peuples gaulois correspondent les noms de lieux suivants ?

- 3 Quel est l'origine du nom " Vieux " ?
Le peuple gaulois des Viducasses



- 4 Quels sont les vestiges qui montrent que Vieux a été une ville romaine ?

- A : le théâtre (19)**
B : la Maison au Grand Péristyle (9)
C : les thermes (7-8)
D : les boutiques (10-11)
E : l'habitat (10-11-12-13)
F : un édifice public (2)
G : un sanctuaire (16) ...etc...




- 5 L'un de ces éléments symbolisait la cité. Lequel ?
- 6 Sur cette carte de l'Empire, souligne les lieux dans lesquels Titus Sennius Solemnis, habitant de Vieux, a exercé une fonction.
BRETAGNE, VIEUX, LYON, ROME, AFRIQUE.

Salle n°2 La maison à péristyle, une habitation luxueuse page 5

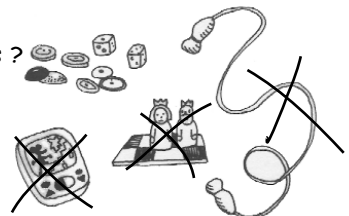
- 1 Dans cette salle et dans la précédente, quelles sont les parties de la maison décorées ? **Les salles d'apparat, la cour et le jardin.**
- 2 Observe la fresque située au-dessus de la mosaïque. Qui sont les personnages représentés ? **Achille et Thétis.**
- 3 Nous sommes en Gaule, à l'époque romaine et pourtant, à quelle mythologie ces personnages appartiennent-ils ? **La mythologie grecque.**

Salle n°3 La vie quotidienne page 7

- 1 Parmi ces aliments, quels sont ceux que les Romains mangent ?
- 2 Résous cette énigme puis inscris la réponse sur la tablette de cire.
Mon premier... " DE ", mon second... " S ", mon tout... " DEESSE ".

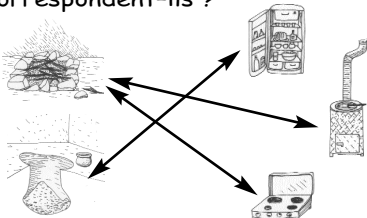


- 3 Observe les jeux et pions de la vitrine.
Parmi les jeux ci-dessous quels sont les intrus ?



- 1 Depuis quand fouille-t-on à Vieux ? **LOUIS XIV.**
- 2 Objet que tu peux utiliser chez toi : **clef, boîte de sardines, boîte de coca.**
Objet romain : **pièce de monnaie, hûtre, cruche...**
- 3 Où est situé l'objet le plus ancien par rapport au plus récent ? **En dessous.**
Explique pourquoi : **Les objets romains ont été recouverts par l'empilement des sols et des vestiges des différentes époques. Les objets actuels sont proches de la surface.**

- 1 En quels matériaux le mur est-il construit ?
A l'extérieur : parements de pierres.
A l'intérieur : un "squelette" de petites branches, noyé dans du torchis (paille + terre argileuse).
- 2 Repère le foyer et le silo de la maison. À ton avis, à quel(s) objet(s) actuel(s) correspondent-ils ?



- 3 A quelle période Vieux est-il le plus densément construit ?
A l'époque romaine.
- 4 Où sont situés les principaux bâtiments du Moyen-Age par rapport à ceux de l'époque romaine : au même endroit ou à la périphérie de la ville gallo-romaine ?
Au nord, en position plus élevée, à l'emplacement de ce qui deviendra plus tard le hameau puis le quartier Saint-Martin.
- 5 Qu'en déduis-tu sur les différentes phases d'occupation du site de Vieux ?
Après l'abandon du site Gallo-romain, la mémoire d'Aregenua est conservée. Les habitants du haut Moyen-âge, cultivateurs et éleveurs, ne s'installent pas sur le site antique qui va servir de carrière pour la construction des maisons (ex : la maison des Gaudines). Ils occupent un endroit proche (le futur hameau de St-Martin), peut-être parce qu'il existe là une adduction d'eau datant de l'époque romaine. Ils exploitent, en clairière, les terres alentours.