

*Nomen etruscum* (.....)

**Repères géographiques**

Situez l'Étrurie sur la carte fournie.

Étrurie centrale Colonies étrusques

Comment s'appelle la région de Bologne et Mantoue ?  
 .....

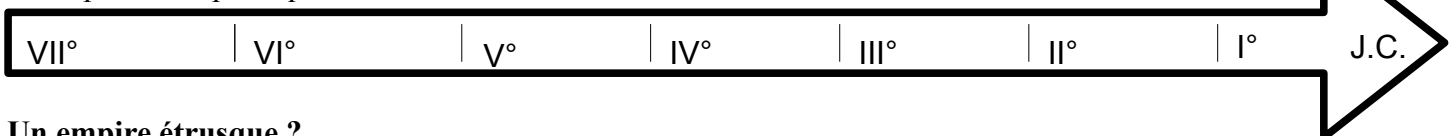
Comment s'appelle la région de Naples, Capoue, Pompéi ?  
 .....

Placez la mer Tyrrhénienne.  
 Que signifie « tyrrhénien » ?  
 .....



**Repères chronologiques**

Sur cette frise chronologique, hachurez l'âge d'or de la civilisation étrusque et indiquez la date de perte d'indépendance politique.



**Un empire étrusque ?**

Faute d'empire centralisé, comment s'organise la domination étrusque ? Quelle autre civilisation antique relève du même modèle ?  
 .....

Qu'appelle-t-on la ligue étrusque ?  
 .....

**L'urbanisme étrusque**

De combien d'habitants sont composées les plus grosses villes ?  
 .....

Comment les quartiers sont-ils organisés ?  
 .....

**Quel régime politique ?**

Quels sont les deux régimes politiques mis en place successivement et à quels siècles ?

.....

.....

**Quelles origines ?**

D'après Hérodote, l'historien grec, les Étrusques viennent de la région appelée ..... ; c'est d'ailleurs pour cela que les Romains les désignent par le terme de .....

En revanche, selon Denys d'Halicarnasse, autre historien grec, l'origine du peuple étrusque est à chercher .....

Les étruscologues modernes, pour leur part, estiment que l'origine des Étrusques est .....

**Quelles traces ?**

• **l'écriture**

Associez à ce document un résumé de ce que nous savons de l'écriture étrusque.

.....

.....

.....

.....

.....

.....

.....

	XII <sup>e</sup>	V <sup>e</sup>		XII <sup>e</sup>	V <sup>e</sup>
a	A	A	s	⊖	
b	B B		o	o	
g	Γ C	>	p	Γ Π	Γ
d	D D		s	M M	M M
e	λ E	E	q	ϕ ϕ	
f	λ Γ	F	r	ρ ρ	ρ
z	I I	I	s	ς	ς ε
h	⊖	⊖	t	τ τ	τ
θ	⊖ ⊖	⊖	u	υ υ	υ
i	i	i	x	χ κ	⊖
k	κ K		φ	φ φ	
l	λ λ	λ	χ	χ ε	↓
m	μ μ	μ	f		⊖ ⊖
n	ν ν	ν			

• **la langue**

Associez à ce document un résumé de ce que nous savons de l'écriture étrusque.

.....

.....

.....

.....

.....

.....

.....



bol étrusque, VI<sup>e</sup> siècle a. C., trouvé à Rome. L'inscription se lit : MI ARAZIIA LARANIIA (c'est le nom de la propriétaire de l'objet).

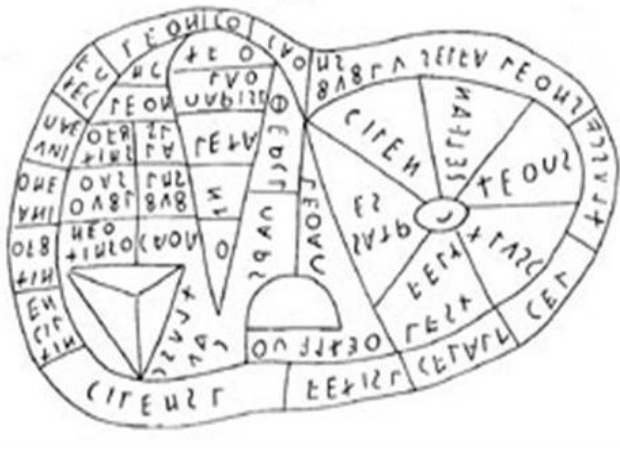
**Pratiques religieuses**

Faute d'unité politique, quels sont les éléments qui fédèrent les peuples étrusques ?

.....

Pourquoi le sanctuaire appelé *fanum Voltumnae* est-il si important pour les peuples étrusques?

.....



Associez à ce document un résumé de ce que nous savons des pratiques divinatoires étrusques.

.....


.....

**Pourquoi une telle civilisation ?**

Quelles ressources naturelles expliquent le développement d'une telle civilisation ?

.....

Voici plusieurs réalisations artistiques étrusques, évoquées dans le documentaire. Légendez-les aussi précisément que possible.



.....



.....



**La fin d'une domination**

Qui a eu raison de la suprématie étrusque ? Pourquoi une telle disparition a-t-elle été possible ? A quelle date considère-t-on que l'artisanat et la langue étrusque ont disparu ?

.....

.....