

Jacques-Louis DAVID

Les licteurs rapportent à Brutus les corps de ses fils

Huile sur toile, 323 x 422 cm, 1789, Musée du Louvre, Paris

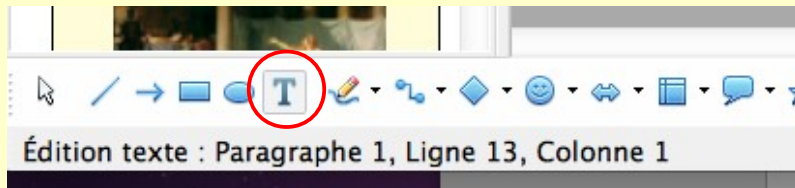


Objectifs :

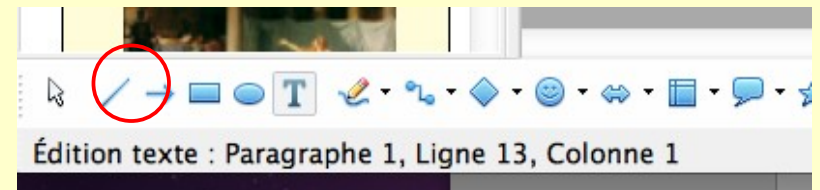
- *Faire la synthèse de l'étude d'un tableau étudié en classe*
- *Utiliser un logiciel de présentation pour travailler en Histoire des Arts*
- *Compétences du B2i : 1, 1 / 1,2 / 1,3 / 1,6 / 3,1 / 3,3*

Utiliser OpenOffice :

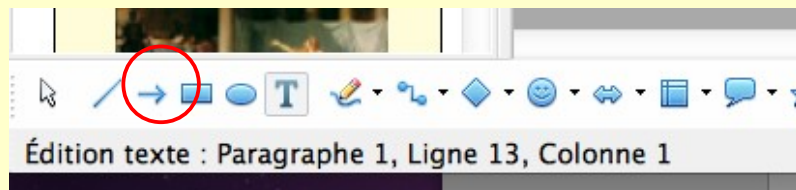
- *Ajouter une zone de texte*



- *Tracer une ligne*



- *Tracer une flèche*



Vous devez ensuite modifier la couleur et la taille du texte ou des flèches en faisant un "clic droit" sur votre objet texte ou image.

Consignes : Tracez les principales lignes de force du tableau :

1°) *les diagonales*



Que mettent-elles en évidence ?

.....
.....

Consignes : Tracez les principales lignes de force du tableau :
2°) *les médiatrices*



Que mettent-elles en évidence ?

.....

.....

Consignes : Tracez les principales lignes de force du tableau :
3°) *les verticales (6 au maximum)*



Que mettent-elles en évidence ?

.....
.....

Consignes : Tracez les principales lignes de force du tableau :
4°) *les horizontales (6 au maximum)*



Que mettent-elles en évidence ?

.....

.....

Consignes : Lumière et contrastes

1°) À l'aide des lettres O et L, indiquez sur le tableau les zones d'Ombre et de Lumière.



Qu'est-ce qui est mis en opposition par le jeu sur l'ombre et la lumière ?

.....
.....

Consignes : Lumière et contrastes

2°) À l'aide de flèches, indiquez l'origine et la direction des 3 sources de lumière du tableau.



Une des sources de lumière est artificielle, laquelle ? Pourquoi a-t-elle été ajoutée ?

.....

Consignes : Symbolique des couleurs

Quelle est la symbolique des couleurs du tableau ?



- Rouge :
- Blanc (du vêtement des filles) :
- Bleu :

Consignes : Symboles (1/3)

Que représente la statue placée derrière Brutus ?



.....

.....

.....

Consignes : Symboles (2/3)

Quel objet est posé sur la table ? Que symbolise-t-il ?



.....

.....

.....

Consignes : Symboles (3/3)

Répondez aux questions :

- Quel symbole, datant de l'époque où a été peint le tableau, est représenté sur cette esquisse mais a disparu dans le tableau ?*
 - Quel rapport y-a-t-il entre ce symbole et le sujet du tableau ?*
-



Consignes : L'héroïsme romain 1/2

Quelle évolution des sentiments de Brutus peut-on remarquer dans les dessins préparatoires du peintre ?

.....

.....

.....

.....

.....



Consignes : L'héroïsme romain 2/2

D'après vous quels sentiments exprime le visage de Brutus ?

.....
.....
.....
.....
.....

En quoi consiste en fait son héroïsme ?

.....
.....
.....
.....
.....
.....
.....
.....

